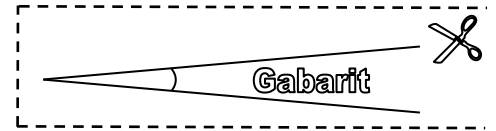


Activités

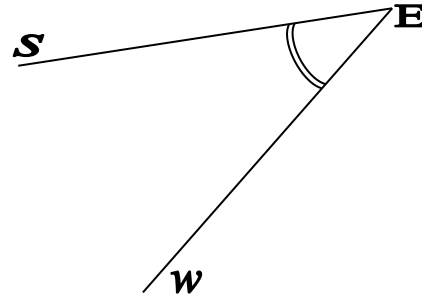
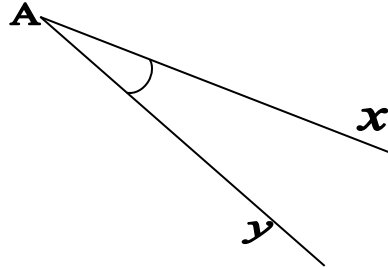
Pour chaque activité, participe au débat avec les questions et réponses qui te viennent à l'esprit.

Activité : Au gabarit.

a) Colorier et découper l'angle « gabarit » avant de coller la présente feuille.



b) Comparer les angles \widehat{xAy} et \widehat{sEw} à vue d'œil puis en s'aidant du gabarit.



c) Construire un angle \widehat{uPv} au triple du gabarit.

d) Est-il possible de concevoir un instrument de mesure qui permettrait de compter combien de fois le gabarit apparaît dans un angle ?

e) Une bissectrice est une demi-droite qui partage l'angle en deux angles de même mesure. Tracer les bissectrices des angles \widehat{xAy} , \widehat{sEw} et \widehat{uPv} .