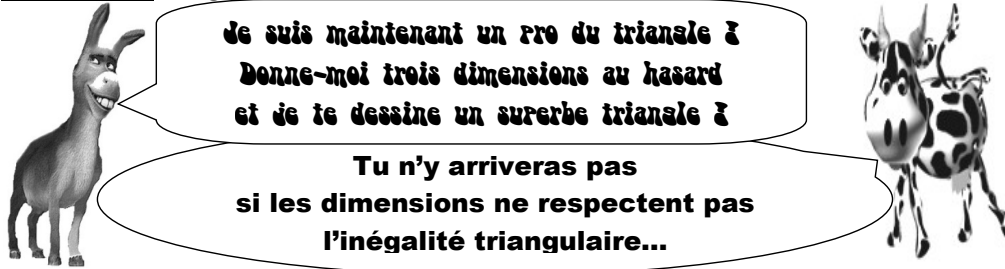
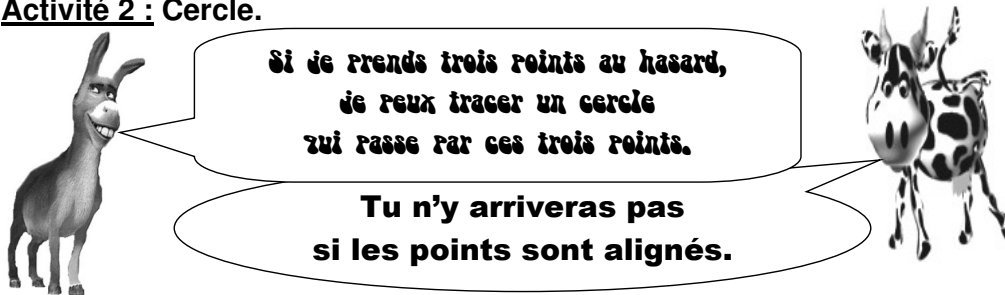


Activités Pour chaque activité, participe au débat avec les questions et réponses qui te viennent à l'esprit.

Activité 1 : Inégalité triangulaire.

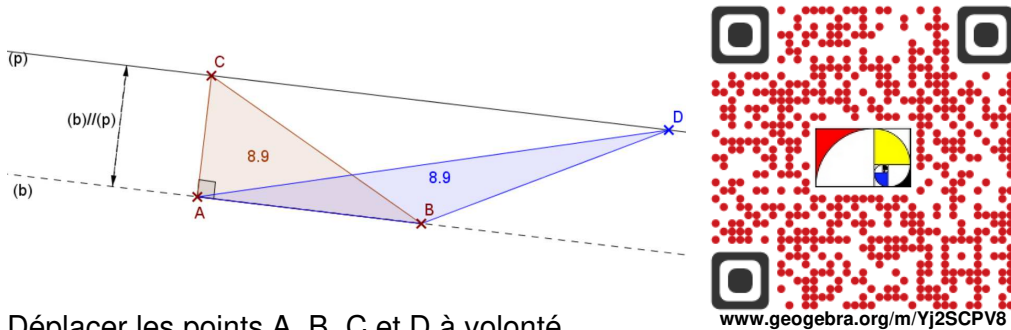


Activité 2 : Cercle.



Activité 3 : Hauteur.

Ouvrir le fichier « 5_04_a_activite_3.ggb » avec le logiciel Geogebra.



Déplacer les points A, B, C et D à volonté.
Que peut-on penser des aires des triangles ABC et ABD ?
Le démontrer.